

Formação Continuada para Professores de Matemática
Fundação CECIERJ/SEEDUC – RJ

Colégio: Colégio Estadual Jornalista Tim Lopes

Professora: Ana Cristina Farias Costa

Matrícula: 00/0939102-0

Série: 1º ano – Ensino Médio

Tutora: Maria Tereza Menucci

Grupo 12

PLANO DE TRABALHO 2

TRIGONOMETRIA NA CIRCUNFERÊNCIA

Ana Cristina Farias Costa

profanamat@hotmail.com

INTRODUÇÃO

Para dar continuidade a essa aula sobre Trigonometria na Circunferência primeiramente começarei fazendo uma abordagem sobre as transformações de arcos, dados no bimestre passado.

Como meu tempo é muito pequeno nesse bimestre, devido aos feriados e outras programações na escola tiveram que rever todo o meu planejamento em relação a esse conteúdo, pois não terei tempo de dar as funções trigonométricas (gráficos), por isso darei somente as expressões envolvendo os senos, cossenos, tangentes, cossecantes, secantes e cotangentes e também a trigonometria no triângulo retângulo e num triângulo qualquer.

Para facilitar o aprendizado e também para ficar mais fácil a visualização dos ângulos notáveis, faremos uma tabela com os valores do seno, cosseno e tangente e as principais fórmulas das funções trigonométricas como: secante, cossecante e cotangente de um arco x e a relação fundamental.

Com base nessas informações começarei a introduzir o conteúdo, usando alguns exemplos dos roteiros de ação.

Transmitirei mesmo em curto tempo assuntos dentro do conteúdo, que mostre situações do nosso dia a dia.

DESENVOLVIMENTO

Atividade 1

* **HABILIDADE RELACIONADA:** Definir função seno, cosseno, tangente, secante, cossecante e cotangente de um arco x .

* **TEMPO DE DURAÇÃO:** 6 tempos de aula (50min cada)

* **RECURSOS EDUCACIONAIS UTILIZADOS:** Papel quadriculado (ou milimetrado), régua, caneta hidrocor (para esboçar o gráfico), caneta esferográfica, lápis, borracha e a tabela.

* **ORGANIZAÇÃO DA TURMA:** Individual ou em dupla.

* **OBJETIVOS:** Visualizar o seno e o cosseno num ciclo trigonométrico, substituir valores dos arcos nas expressões trigonométricas e também confeccionar os gráficos das funções seno, cosseno e tangente.

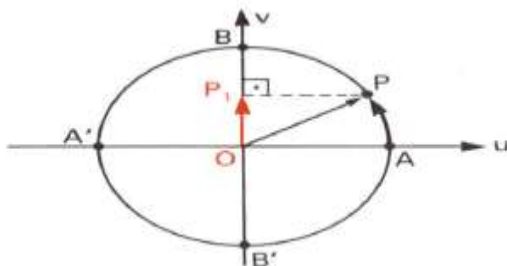
* **METODOLOGIA ADOTADA:**

Primeiramente iremos fazer a introdução das funções circulares e em seguida elaborar uma tabela com todos os valores das funções trigonométricas que iremos usar.

Definição do seno de um arco

Definimos seno de x como a medida algébrica de $\overline{OP_1}$ e indicamos $\text{sen } x = \overline{OP_1}$.

O eixo vertical, suporte de $\overline{OP_1}$, é chamado eixo dos senos.



Função seno

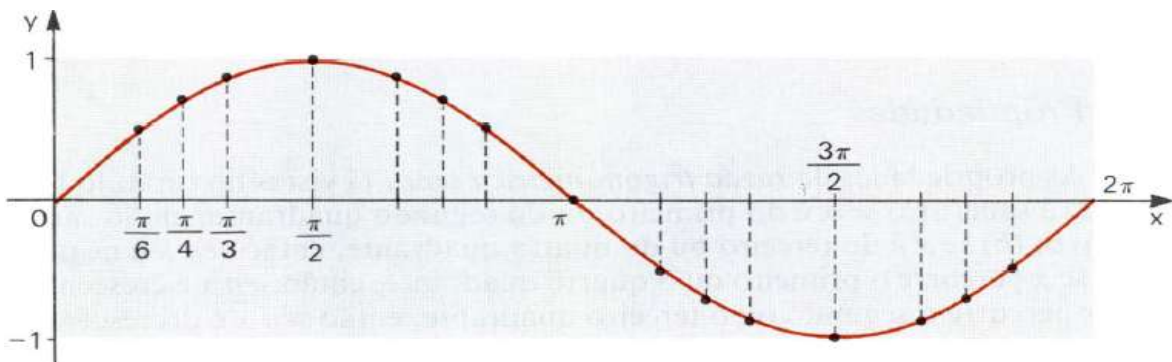
Todo número real x pode ser considerado como a medida, em radianos, de um determinado arco AC .

Para cada arco AC existe um único número real y que é o seu seno, ficando, portanto definida a função seno $f: x \rightarrow y$.

O domínio e o contradomínio dessa função são o conjunto \mathbb{R} . Ela é indicada por $y = \text{sen } x$ ou $f(x) = \text{sen } x$.

Gráfico de $y = \text{sen } x$

A curva construída chama-se senóide (forma de seno) e foi representada somente no intervalo $[0, 2\pi]$. Como o domínio é \mathbb{R} e não $[0, 2\pi]$, a curva continua à direita de 2π e à esquerda de zero.

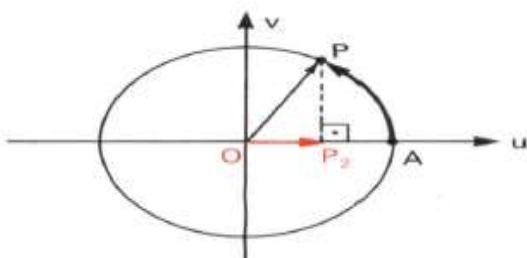


Definição de cosseno de um arco

Definimos cosseno de um arco AC ou cosseno de x a medida algébrica de $\overline{OP_2}$ e indicamos

$$\cos x = \overline{OP_2}$$

O eixo horizontal, suporte de $\overline{OP_2}$, é chamado eixo dos cossenos.



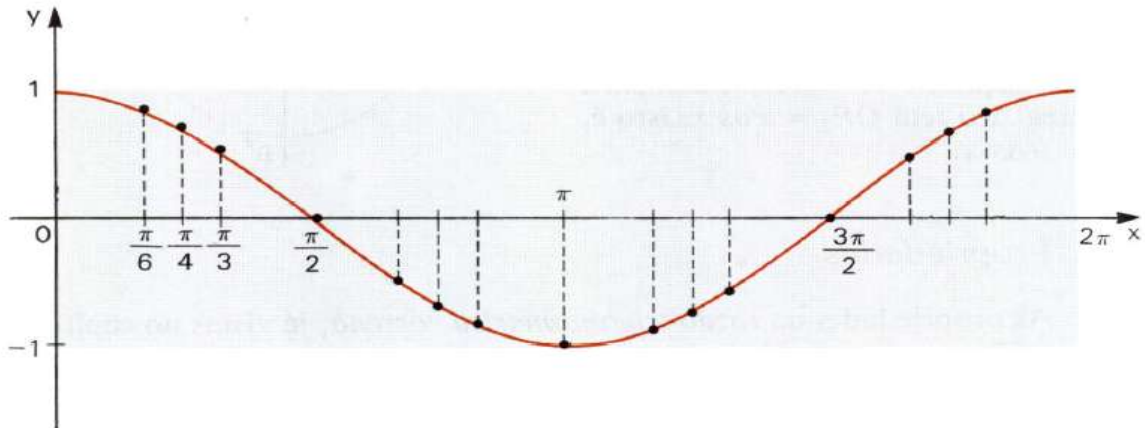
Função Cosseno

Para cada arco AC existe um único número real y que é o seu cosseno, ficando, portanto, definida a função cosseno $f : x \rightarrow y$.

O domínio e o contradomínio dessa função são o conjunto \mathbb{R} . Ela é indicada por $y = \cos x$ ou $f(x) = \cos x$.

Gráfico de $y = \cos x$

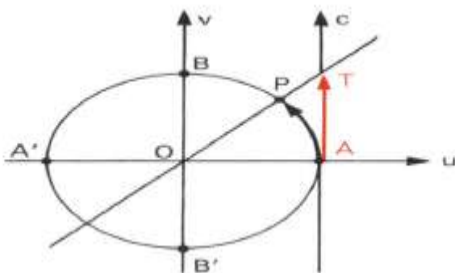
A curva construída chama-se cossenóide (forma do cosseno) e foi representada somente no intervalo $[0, 2\pi]$. Como o domínio é \mathbb{R} e não $[0, 2\pi]$, a curva continua à direita de 2π e à esquerda de zero.



Definição de tangente de um arco

Definimos tangente do arco AC ou tangente de x como a medida algébrica de \overline{AT} e indicamos $\text{tg } x = \overline{AT}$.

O eixo vertical, suporte de \overline{AT} , é chamado de eixo das tangentes.



Função tangente

Existe, para cada arco AC, com C não congruente a B e C não congruente B', um único número real y que é a sua tangente, ficando, portanto, definida a função tangente $f : x \rightarrow y$.

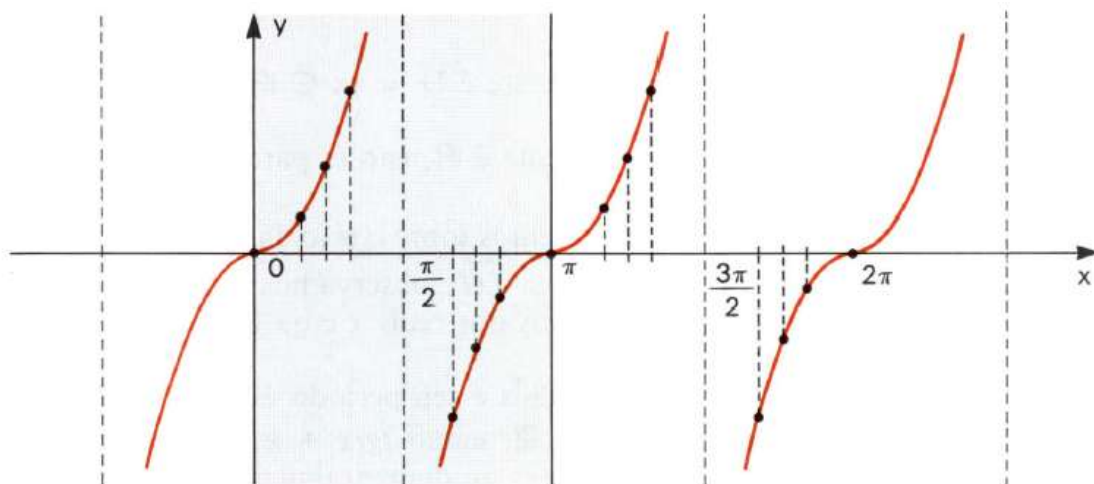
O domínio dessa função é $D = \{x / x \in \mathbb{R} \text{ e } x \neq \frac{\pi}{2} + k\pi (k \in \mathbb{Z})\}$ e o contradomínio é o conjunto \mathbb{R} . Ela é indicada por $y = \text{tg } x$ ou $f(x) = \text{tg } x$.

Gráfico de $y = \text{tg } x$

O gráfico construído chama-se tangêntoide (forma tangente) e foi representado somente no intervalo $[0, 2\pi]$.

Como o domínio é $D = \{x / x \in \mathbb{R} \text{ e } x \neq \frac{\pi}{2} + k\pi (k \in \mathbb{Z})\}$ e não $[0, 2\pi]$, o gráfico continua à direita de 2π e à esquerda de zero.

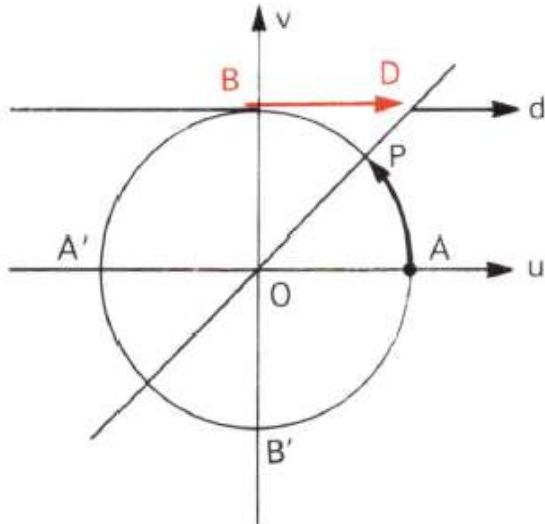
Nos pontos onde a tangente inexiste, ou seja, nos pontos para os quais $x = \frac{\pi}{2} + k\pi (k \in \mathbb{Z})$, representamos retas verticais tracejadas.



Para fazer esses gráficos os Roteiros de Ação sugeriu que usássemos o Geogebra, para facilitar, mas não tenho acesso a esse material, pois não posso instalar nenhum software nos computadores da escola, mas passei no Data show. Eles fizeram esses gráficos em folha milimetrada.

Cotangente de um arco.

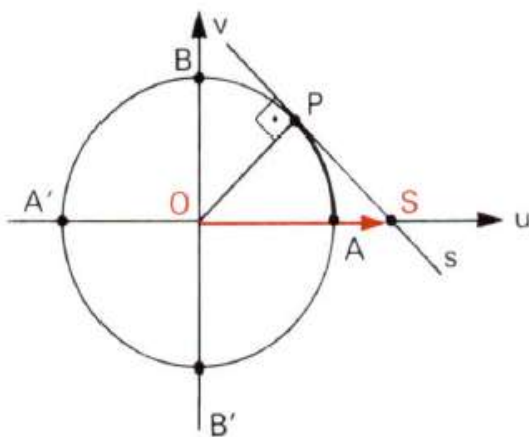
A cotangente de um arco é indicada na circunferência no eixo paralelo ao eixo das abscissas.



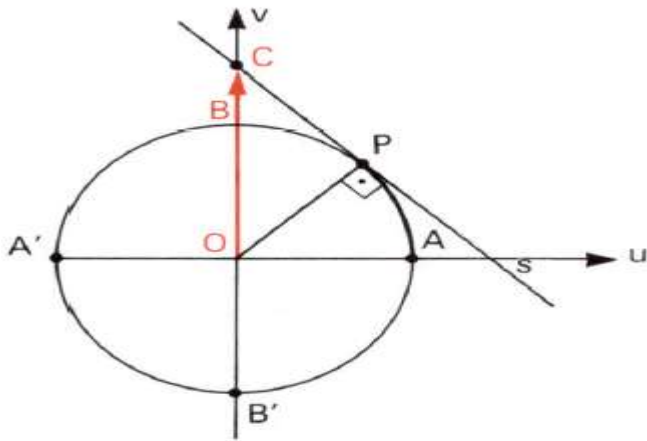
$$\text{Cotg } x = \frac{\cos x}{\text{sen } x}$$

Cossecante e secante de um arco.

A cossecante e a secante de um arco são indicadas na circunferência trigonométrica no eixo das ordenadas e no eixo das abscissas, respectivamente.



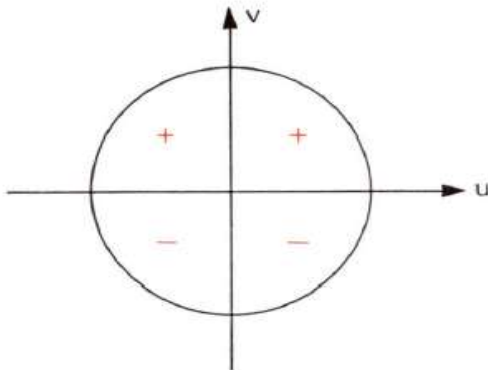
$$\text{Sec } x = \frac{1}{\cos x}$$



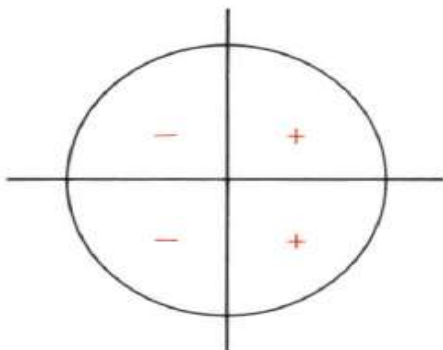
$$\text{Cossec } x = \frac{1}{\text{sen } x}$$

Ciclo Trigonométrico e Tabela Trigonométrica

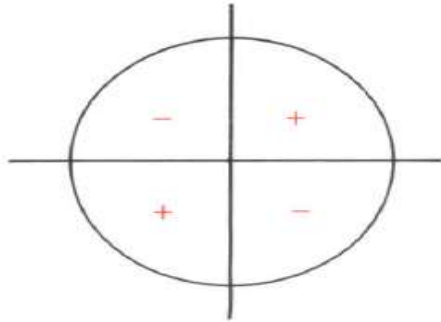
- Sinais dos Quadrantes: a) **Seno**



- **Cosseno**



• **Tangente**



Ang	0°	30°	45°	60°	90°	120°	135°	150°	180°	210°	225°	240°	270°	300°	315°	330°	360°
Rad	0	$\frac{\pi}{6}$	$\frac{\pi}{4}$	$\frac{\pi}{3}$	$\frac{\pi}{2}$	$\frac{2\pi}{3}$	$\frac{3\pi}{4}$	$\frac{5\pi}{6}$	π	$\frac{7\pi}{6}$	$\frac{5\pi}{4}$	$\frac{4\pi}{3}$	$\frac{3\pi}{2}$	$\frac{5\pi}{3}$	$\frac{7\pi}{4}$	$\frac{11\pi}{6}$	2π
Sen	0	$\frac{1}{2}$	$\frac{\sqrt{2}}{2}$	$\frac{\sqrt{3}}{2}$	1	$\frac{\sqrt{3}}{2}$	$\frac{\sqrt{2}}{2}$	$\frac{1}{2}$	0	$-\frac{1}{2}$	$-\frac{\sqrt{2}}{2}$	$-\frac{\sqrt{3}}{2}$	-1	$-\frac{\sqrt{3}}{2}$	$-\frac{\sqrt{2}}{2}$	$-\frac{1}{2}$	0
Cos	1	$\frac{\sqrt{3}}{2}$	$\frac{\sqrt{2}}{2}$	$\frac{1}{2}$	0	$-\frac{1}{2}$	$-\frac{\sqrt{2}}{2}$	$-\frac{\sqrt{3}}{2}$	-1	$-\frac{\sqrt{3}}{2}$	$-\frac{\sqrt{2}}{2}$	$-\frac{1}{2}$	0	$\frac{1}{2}$	$\frac{\sqrt{2}}{2}$	$\frac{\sqrt{3}}{2}$	1
Tg	0	$\sqrt{3}$	1	$\frac{\sqrt{3}}{3}$		$-\sqrt{3}$	-1	$-\frac{\sqrt{3}}{3}$	0	$\frac{\sqrt{3}}{3}$	1	$\sqrt{3}$		$-\sqrt{3}$	-1	$-\frac{\sqrt{3}}{3}$	0

Exercícios sobre os conteúdos abordados acima.

1- Sendo $f(x) = \frac{1}{2} \cdot \operatorname{cosec}(3x)$, calcule $f\left(\frac{\pi}{2}\right)$.

2- Qual é o valor da expressão $y = \frac{\sec \pi - \operatorname{sen} \frac{\pi}{2}}{\cos \pi - \cot g \frac{\pi}{2}}$

3- Se $x = \cos 945^\circ - \cos 495^\circ$, então:

a) $x = 1$ b) $x = \frac{1}{2}$ c) $x = \frac{\sqrt{2}}{2}$ d) $x = 0$ e) $x = -1$

4- Qual é o valor numérico da expressão: $\frac{\operatorname{sen}330^\circ + \operatorname{cos}990^\circ}{2.\operatorname{tg}225^\circ}$

5-(Mackenzie – SP) Se $x = \frac{\pi}{2}$, então qual é o valor da expressão

$$\frac{\operatorname{sen}x + 2.\operatorname{cot}g\left(\frac{x}{2}\right) - \operatorname{cos}(2x)}{\operatorname{tg}\frac{x}{2}.\operatorname{cossec}x + \operatorname{sec}(4x)} ?$$

6- (UF – Uberlândia – MG) Simplificando a expressão $2.\operatorname{cos}\left(\frac{86\pi}{3}\right) - 3.\operatorname{tg}\left(\frac{11\pi}{4}\right)$, obtém-se:

a) -4 b) $-2\sqrt{3}$ c) 2 d) $1 + \sqrt{3}$ e) 4

7- (ACAFE-SC) O valor numérico da expressão $\operatorname{sen}2\pi - \operatorname{sec}\frac{4\pi}{3} - \operatorname{cossec}\frac{5\pi}{6}$, é:

a) 4 b) $\frac{1}{2}$ c) -2 d) 2 e) 0

8- Construa os gráficos das funções abaixo, determinante, seu domínio, sua imagem e seu período.

$f: \mathbb{R} \rightarrow \mathbb{R}$ dada por $f(x) = 1 + 2 \cdot \operatorname{sen} x$.

$f: \mathbb{R} \rightarrow \mathbb{R}$ dada por $f(x) = 2 - \operatorname{sen} x$.

$f: \mathbb{R} \rightarrow \mathbb{R}$ dada por $f(x) = -1 + \operatorname{sen} 2x$.

$f: \mathbb{R} \rightarrow \mathbb{R}$ dada por $f(x) = -\operatorname{cos} x$.

$f: \mathbb{R} \rightarrow \mathbb{R}$ dada por $f(x) = 2 \cdot \operatorname{cos} x$.

$f: \mathbb{R} \rightarrow \mathbb{R}$ dada por $f(x) = -3 \cdot \operatorname{cos} x$.

Atividade 2

* **HABILIDADE RELACIONADA:** H12 – Resolver problemas envolvendo as razões trigonométricas no triângulo retângulo (seno, cosseno e tangente dos ângulos de 30° , 45° e 60°) e H13 – Resolver problemas envolvendo a lei dos senos e dos cossenos.

* **TEMPO DE DURAÇÃO:** 6 tempos de aula (50min cada)

* **RECURSOS EDUCACIONAIS UTILIZADOS:** Exercícios contextualizados.

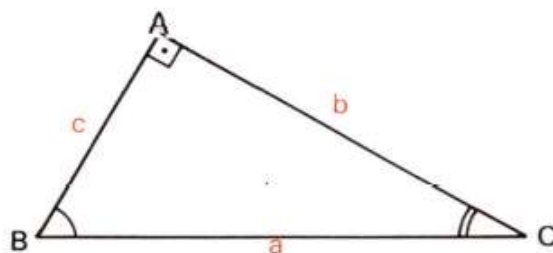
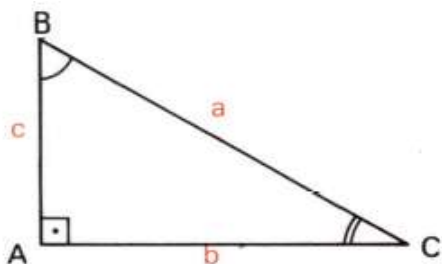
* **ORGANIZAÇÃO DA TURMA:** Individual

* **OBJETIVOS:** Estimular o raciocínio da interpretação de enunciados e generalização de situações para resolver problemas.

* **METODOLOGIA ADOTADA:** Aplicação da Trigonometria em um triângulo retângulo e em um triângulo qualquer.

Trigonometria no Triângulo Retângulo

Num triângulo retângulo em que a hipotenusa mede a , os catetos medem b e c e sendo α a medida de um ângulo agudo, temos:



$$\text{Sen } B = \frac{\text{catetooposto}}{\text{hipotenusa}} = \frac{b}{a}$$

$$\text{Cos } B = \frac{\text{catetoadjacente}}{\text{hipotenusa}} = \frac{c}{a}$$

$$\text{Tg } B = \frac{\text{catetooposto}}{\text{catetoadjacente}} = \frac{b}{c}$$

Exercícios para reforço da aprendizagem

Um observador vê um prédio, construído em terreno plano, sob um ângulo de 60° . Afastando-se do edifício mais 30 m , passa a ver o edifício sob ângulo de 45° . Qual é a altura do prédio?

Solução

No triângulo BXY, temos:

$$\text{tg } 60^\circ = \frac{h}{\ell} \Rightarrow \ell = \frac{h}{\sqrt{3}}$$

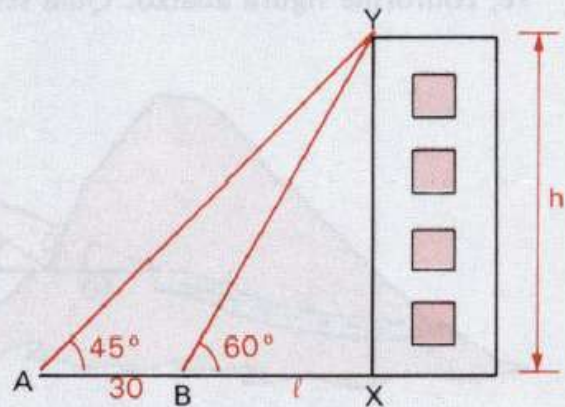
No triângulo AXY, temos:

$$\text{tg } 45^\circ = \frac{h}{\ell + 30} \Rightarrow h = \ell + 30$$

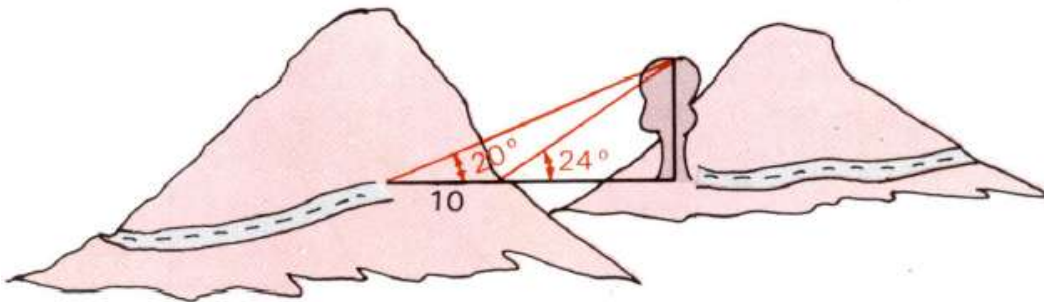
então

$$h = \frac{h}{\sqrt{3}} + 30 \Rightarrow h = \frac{30\sqrt{3}}{\sqrt{3} - 1}$$

Resposta: $\frac{30\sqrt{3}}{\sqrt{3} - 1} \text{ m.}$



Uma firma de engenharia deve construir uma ponte unindo duas montanhas, para dar continuidade a uma estrada. O engenheiro tomou como referência uma árvore, conforme figura abaixo. Qual será o comprimento da ponte?

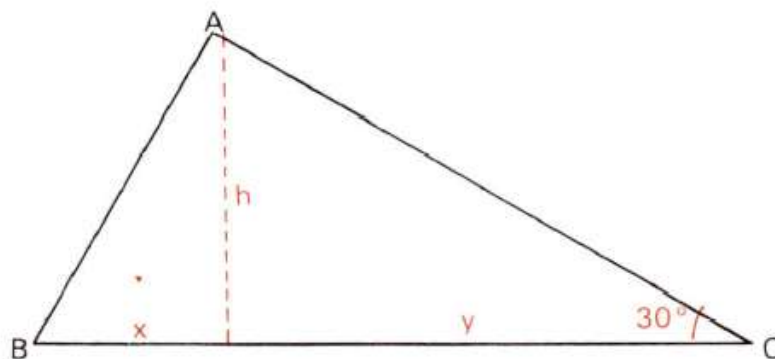


Calcule os lados de um triângulo retângulo, sabendo que a altura relativa à hipotenusa é $h = 4$ e um ângulo agudo é $\hat{B} = 30^\circ$.

Calcule os lados de um triângulo retângulo, sabendo que a altura relativa à hipotenusa mede 4 e forma um ângulo de 15° com o cateto b .

Dados: $\sin 75^\circ = \frac{\sqrt{2} + \sqrt{6}}{4}$ e $\cos 75^\circ = \frac{\sqrt{6} - \sqrt{2}}{4}$.

Considerando o $\triangle ABC$ retângulo em A , conforme figura abaixo, qual é a relação entre x e y ?

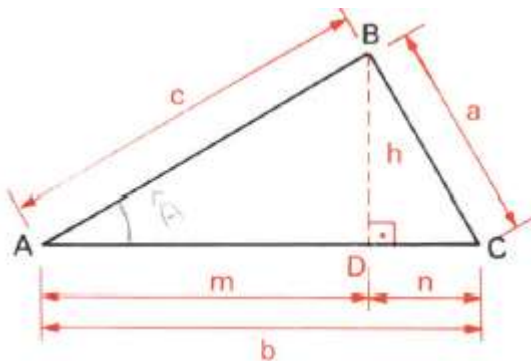


Relações Trigonômicas em um triângulo Qualquer

Existem situações relacionadas a triângulos que exigirão um pouco mais de conhecimento para que possam ser resolvidas. Basta considerar que o triângulo não é retângulo.

Particularmente estudaremos duas leis: As leis dos senos e do cosseno.

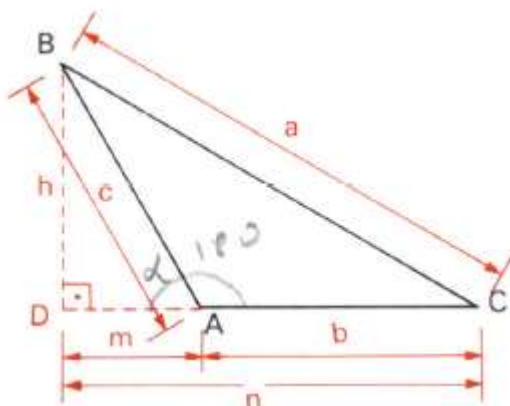
a) Lei dos senos → A lei dos senos é uma relação entre as medidas dos lados de um triângulo qualquer e dos senos dos ângulos opostos a esses lados. Para compreender essa relação, considere:



Em qualquer triângulo ABC, as medidas dos lados são proporcionais aos valores dos senos dos ângulos opostos, isto é:

$$\frac{a}{\text{sen} \hat{A}} = \frac{b}{\text{sen} \hat{B}} = \frac{c}{\text{sen} \hat{C}}$$

b) Lei dos Cossenos → Num triângulo qualquer, o quadrado da medida de um lado é igual à soma dos quadrados das medidas dos outros dois, menos o dobro do produto das medidas desses dois lados pelo cosseno do ângulo que eles formam. Temos:



$$A^2 = b^2 + c^2 - 2.bc.\cos A$$

Ou

$$B^2 = a^2 + c^2 - 2.ac.\cos B$$

Ou

$$C^2 = a^2 + b^2 - 2.ab.\cos C$$

Exercícios para aprofundar a aprendizagem

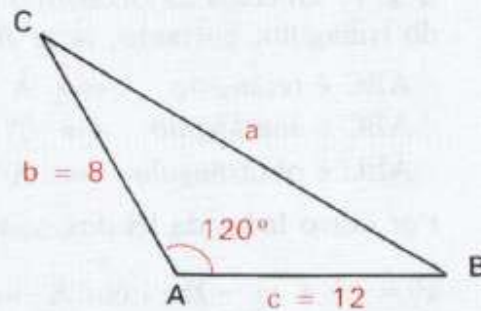
Dois lados de um triângulo medem 8 m e 12 m e formam entre si um ângulo de 120° . Calcule o terceiro lado.

Solução

Adotando a notação da figura ao lado e aplicando a lei dos cossenos, temos:

$$\begin{aligned} a^2 &= b^2 + c^2 - 2bc \cdot \cos \hat{A} = \\ &= 8^2 + 12^2 - 2 \cdot 8 \cdot 12 \cdot \cos 120^\circ = \\ &= 64 + 144 + 96 = 304 \end{aligned}$$

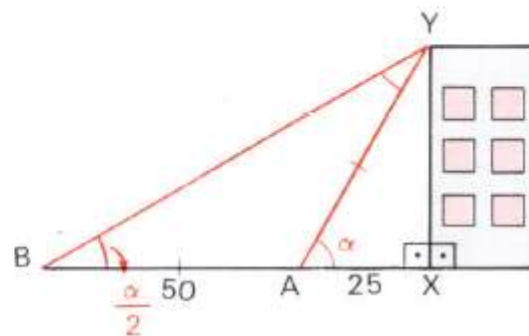
$$\text{então } a = \sqrt{304} = 4\sqrt{19}\text{ m.}$$



Quais são os ângulos \hat{B} e \hat{C} de um triângulo ABC para o qual $\hat{A} = 15^\circ$,

$$\text{sen } \hat{B} = \frac{\sqrt{3}}{2} \text{ e } \text{sen } \hat{C} = \frac{\sqrt{2}}{2} ?$$

Um observador colocado a 25 m de um prédio vê o edifício sob certo ângulo. Afastando-se em linha reta mais 50 m , nota que o ângulo de visualização é metade do anterior. Qual é a altura do edifício?



AVALIAÇÃO

A avaliação ocorrerá durante cada atividade feita em sala de aula, levando-se em conta de maneira que ambos possam avaliar o quanto se desenvolveu com cada competência relacionada aos temas estudados nas atividades 1 e 2.

Será observado individualmente o efetivo aprendizado do educando na realização da prática, a partir da utilização, recursos como a tabela e o ciclo trigonométrico, para que possam ser feitas as expressões envolvendo as relações e as funções trigonométricas. Serão feitas avaliações em dupla, com questões diversificadas e contextualizadas.

Teremos três tipos de avaliações, que serão feitas duas em dupla e a outra individual, pois através destas avaliações, observarei se os alunos conseguiram adquirir o conhecimento passado nas atividades anteriores.

Nas avaliações em dupla serão analisadas se os alunos assimilaram o conteúdo abordado sobre as relações trigonométricas na circunferência, funções trigonométricas e a trigonometria nos triângulos.

Referências Bibliográficas

DANTE, L.R. de. **Matemática Contexto & Aplicações**. 5 ed. São Paulo: Ática, 2011.

BUCCHI, P. de. **Matemática e Cidadania**. 1 ed. São Paulo: Escala Educacional, 2008.

BENETTI, B. de. **Matemática Acontece**. 1 ed. São Paulo: Editora do Brasil, 2012.